

Время проведения: 31 марта — 15 апреля 2021 г.

Рекомендуем, чтобы задания зачитывал воспитатель или родитель. В вопросах с вариантами ответов следует выбрать верный вариант и обвести его карандашом или ручкой.

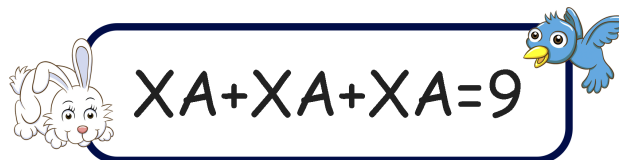
Весна! Проснулся Дальний лес и отмечает праздник смеха.

Ну, потеха! Вот потеха! Словно целый белый свет съел смешинку на обед!




№1. А лесная детвора прямо с самого утра
Заклчила договор: веселить любимый двор.
Какое число обозначает ХА в примере:

Обведите это число: **1 2 3 4 5 6 7**



№2. Отгадайте ребус на картинке справа и вы узнаете название птицы, которая первой прилетела на конкурс. Выберите изображение этой птицы ниже.



№3. 3 утёнка, 2 лисёнка, 5 сорок и 6 волчат
С шутками и песнями в Дальний лес спешат.

Ребята, сосчитайте, сколько птиц спешат на праздничные конкурсы?

Обведите число — правильный ответ.

1 2 3 4 5 6 7 8 9 10

№4. Для конкурса «БАБАХ!» Енотик купил шары.
Один шар стоит 2 грошика. Сколько шаров он мог
купить на грошики, которые дала ему мама?

Обведите число — правильный ответ.

1 2 3 4 5 6 7 8 9 10



№5. Слышен белок звонкий смех! Кто быстрее возьмёт орех?

В соревновании с орехами белка Рыжуха успела перетащить за минуту из корзинки в дупло 5 орехов, а белка Прыгунья перетащила за это же время на один орех больше. Сколько орехов перетащила белка Прыгунья?








Обведите число — правильный ответ.

1 2 3 4 5 6 7 8 9 10




№6. Сорока — самый быстрый почтальон в лесу. Она знает адреса всех животных! Сегодня сороке надо доставить приглашения на конкурс «Знатоков» для зверей. Выберите строку, в которой указаны только адреса зверей.

- 1) 1Б, 2Г
- 2) 3А, 5А
- 3) 2Г, 3В
- 4) 5А, 4Д

	А	Б	В	Г	Д
1					
2					
3					
4					
5					

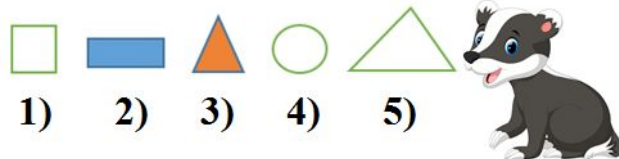
№7. Барсучиха — бабушка для гостей печёт оладушки. Три тарелки для лисят, две тарелки для ежей, Тарелочку для белочки.



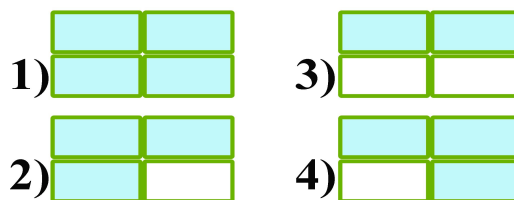
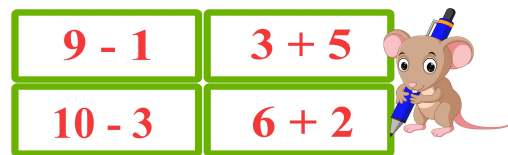
Сколько всего тарелочек поставила бабушка для зверят? Обведите число — правильный ответ.

1 2 3 4 5 6 7 8 9 10

№8. Барсук принимал участие в конкурсе «Начерти фигуру» с закрытыми глазами. Он начертил не круглую, не закрашенную фигуру и не квадрат. Над какой фигурой трудился Барсук?



№9. Мышонок закрасил все прямоугольники, в которых результаты действий равны 8, а в остальных прямоугольниках примеры стёр. Какой рисунок у него получился?



№10. На поляне возле ручья начинаются «Весёлые старты». Кто быстрее доберётся до вершины сосны? А победил сегодня тот, у кого больше лапок. Соревновались сегодня жук и паук. У жука 3 пары лапок, а у паука — 4 пары. На сколько лапок больше у паука, чем у жука? Обведите число.

На 1 2 3 4 5 6 7 8 9 лапки

